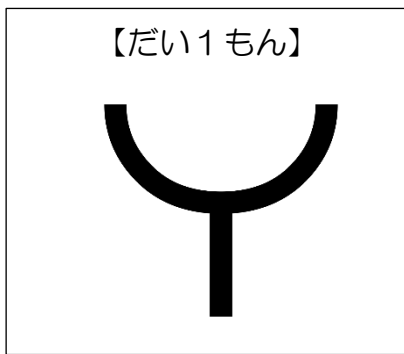


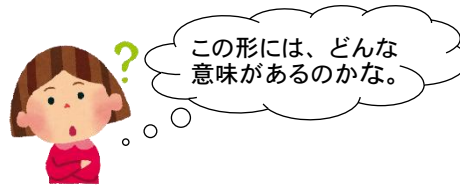
令和2年5月12日(火)

3年生のみなさん、こんにちは。ハウセンカとヒマワリのたねまきは終わりましたか。今日からわすれずに水やりをしましょう。

さて、今回は社会科の地図記号^{きごう}についてのクイズです。
何の地図記号が分かるかな。



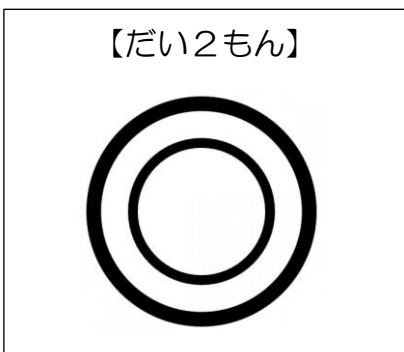
これは、何をあらわしているでしょう。




答えは、「消防署(しょうぼうしょ)」です。

この形は、むかし火事のとくに火の広がりをふせぐためにつかった「さすまた」の形からできています。

地図記号には、「とりい」の形からできた ㍻ (神社) や
「2まいの子葉」の形からできた ㍷ (畑) のように、
ものの形から生まれたものがたくさんあります。



これは、何をあらわしているでしょう。



答えは、「市役所(しゃくしょ)」です。
これは、たてものの形にかんけいなく、市の中心にあることをイメージしたものです。

丸でかこむと、べつのをあらわす地図記号もあります。

× 交番	→	⊗ 警察署(けいさつしょ)
○ 町役場・村役場 (まちやくば・むらやくば)	→	◎ 市役所 (しゃくしょ)
✱ 小学校・中学校	→	⊗ 高等学校(高校)

丸がつくとさらに大きい場所になる、とおぼえるとべんりですね♪



地図記号は、社会科のべんきょうでたくさん出てきます。
今のうちにしっかりおぼえておきましょう。